



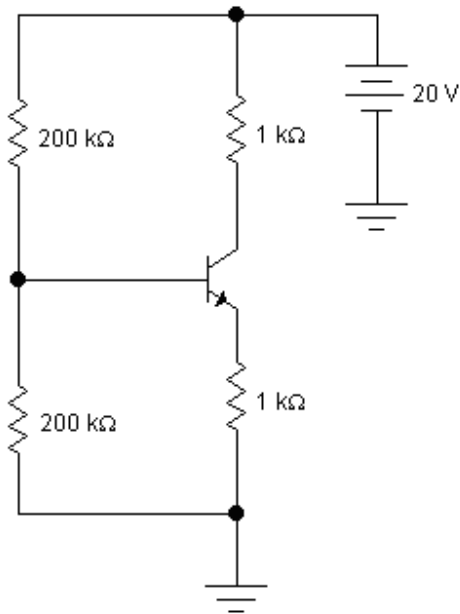
Prova de Eletrônica P₂ Terceiro Período – 2009/2
Professor: Adriano Martins Moutinho

Nota:

PERMITIDO USO DE CALCULADORA E
PROVA A LAPIS. SEM CONSULTA!

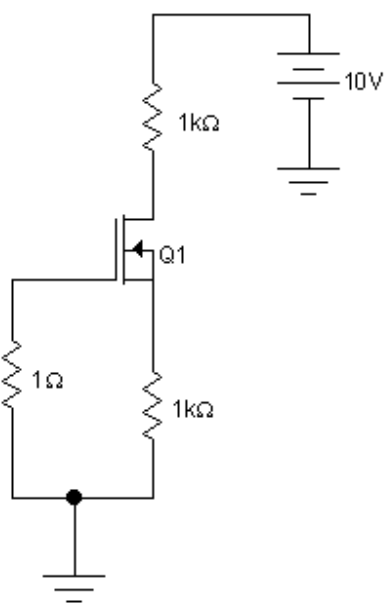
Nome: _____ Turma: _____

1) Para o circuito abaixo, calcule o ponto de operação. Considere $V_{BE} = 0.6V$ e $\beta=250$. (2 pontos)



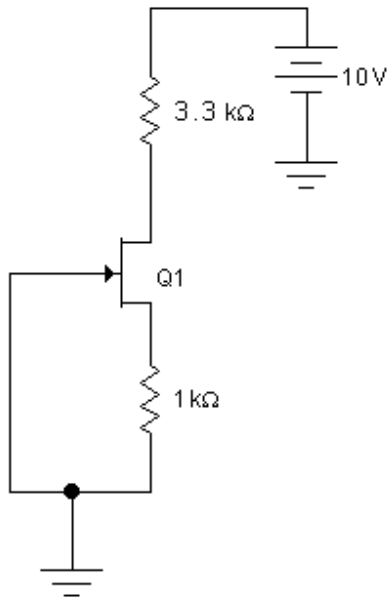
Desenvolvimento:

2) Para o circuito abaixo, calcule o valor de I_D e V_{DS} ($V_{GS} = -5V$) (2 pontos)



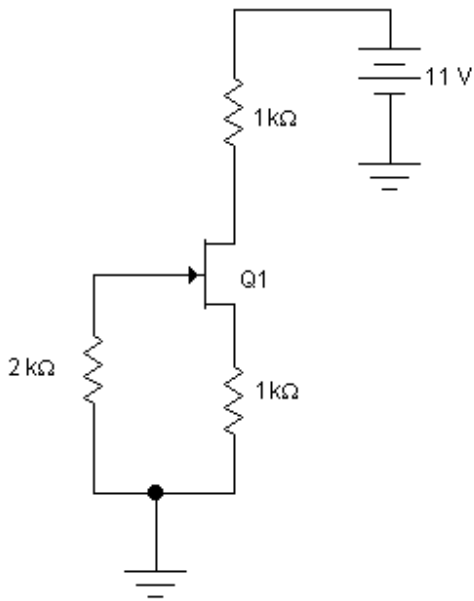
Desenvolvimento:

3) Para o circuito abaixo, calcule o valor de I_D e V_{DS} ($V_{GS} = -1.5V$) (2 pontos)



Desenvolvimento:

4) Para o circuito abaixo, calcule o valor de I_D e V_{DS} ($I_{DSS} = 4mA$ e $V_P = -4V$) (2 pontos)
 Dica: Lembre-se que o valor de V_{GS} deve estar entre $-4V$ e $0V$



Desenvolvimento: $I_D = I_{DSS} (1 - V_{GS} / V_P)^2$

5) Explique o funcionamento do MOSFET de intensificação, citando a diferença deste para o MOSFET de depleção entre ambos: (2 pontos)

Diagrama e explicações: