



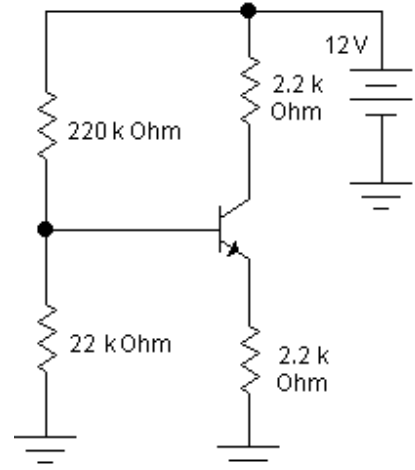
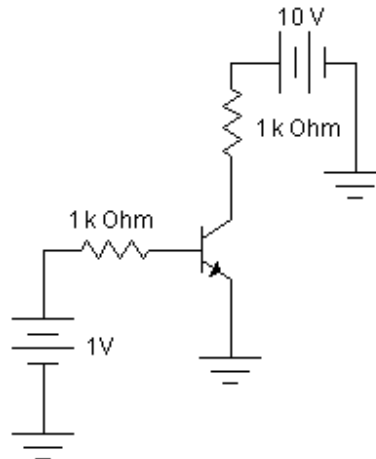
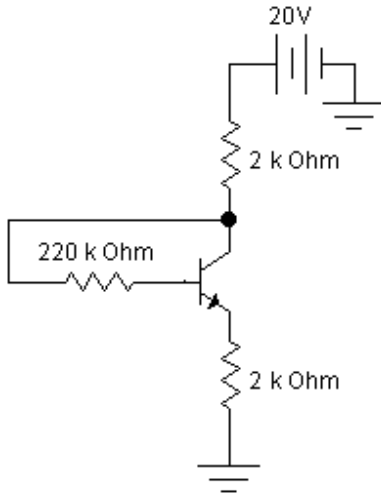
Prova de Digital – Teoria – Terceiro Período – 2011/1
Professor: Adriano Martins Moutinho

Nota:

PERMITIDO USO DE CALCULADORA E
PROVA A LAPIS. SEM CONSULTA!

Nome: _____ Turma: _____

1) Encontre o ponto de operação (I_C e V_{CE}) dos circuitos abaixo e **ESPECIFIQUE** se os mesmos estão na região **LINEAR**, **SATURAÇÃO** ou **CORTE**. Considere $V_{BE} = 0.6V$ e $\beta=200$. (3.0 pontos, 1.0 cada)



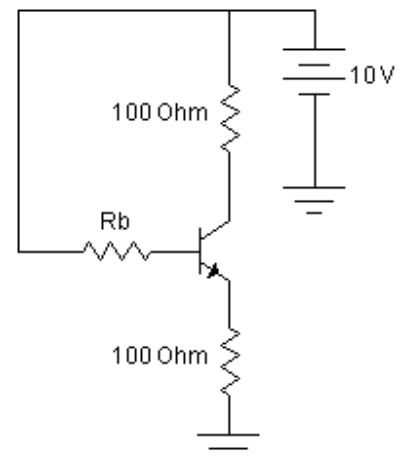
a) Desenvolvimento:

b) Desenvolvimento:

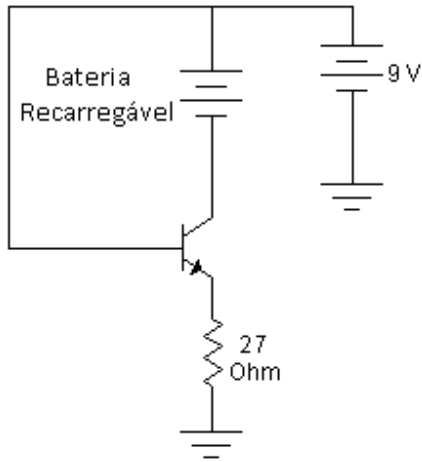
c) Desenvolvimento:

2) Calcule um valor qualquer para R_b que faça o transistor do circuito abaixo operar no corte. Considere $V_{BE} = 0.6V$ e $\beta=200$: (2.0 pontos)

Desenvolvimento:

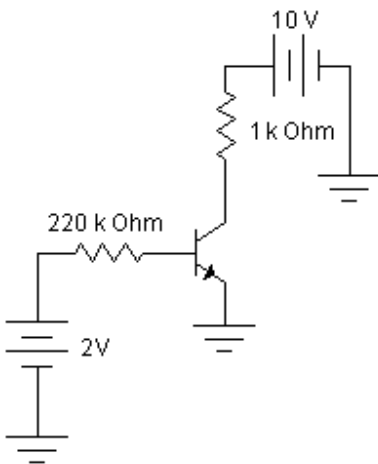


3) Calcule a corrente que carrega a bateria. Considere $V_{BE} = 0.6V$ e $\beta=200$. (2.0 pontos)



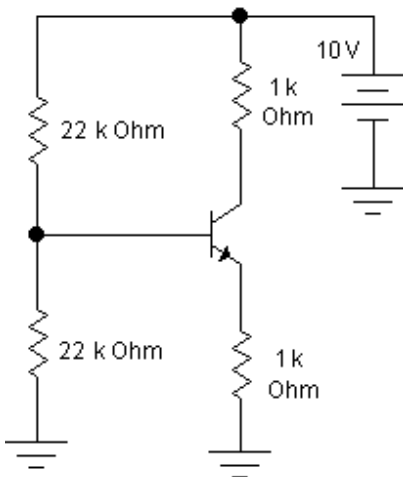
Desenvolvimento:

4) Para o circuito abaixo, calcule V_{CE} e I_C . Considere $V_{BE} = -0.6V$ e $\beta=200$. (1.5 pontos)



Desenvolvimento:

5) Para o circuito abaixo, calcule V_{CE} e I_C . Considere $V_{BE} = 0.6V$ e $\beta=200$. (1.5 pontos)



Desenvolvimento: